

МИНИСТАРСТВО ПРОСВЕТЕ, НАУКЕ И ТЕХНОЛОШКОГ РАЗВОЈА  
РЕПУБЛИКЕ СРБИЈЕ  
И СРПСКО ГЕОГРАФСКО ДРУШТВО

---

РЕПУБЛИЧКО ТАКМИЧЕЊЕ  
ИЗ ГЕОГРАФИЈЕ  
ЗА 8. РАЗРЕД



Београд, 2015.



## УПУТСТВО ЗА РАД

Пред вама је тест знања из географије за 8. разред. Питања обухватају градиво редовне и додатне наставе 5, 6. и 8. разреда. На крају сваког питања (број у загради) уписан је број могућих бодова којима се вреднују одговори.

Тест обавезно попунити хемијском оловком. На текстуална питања одговор је потребно написати читко, без прецртавања. Поједини задаци садрже вишеструки избор. Потребно је пронаћи тачан или тачне одговоре и заокружити слова које се налазе испред њих. Ако заокружите више одговора од траженог броја, задатак се неће признати. Код задатака типа допуњавања, захтев је дат у облику непотпуног исказа. Потребно је допунити или завршити реченице да би исказ био тачан и јасан. Код неких питања задаци су дати у две колоне. Ваш задатак је да повежете, тј. "спарите" податке из колоне, тако што ћете читко уписивати слова из једне колоне на линије које се налазе испред друге колоне (спаривања стрелицама или дописивање неће се вредновати). Код задатака где се тражи да упишете одговоре на линије, упишите их јасно и тачно, без накнадног прецртавања и дописивања одговора.

На директна питања потребно је одговорити кратко и јасно. Прецртавање или накнадно дописивање одговора се неће вредновати.

Време за решавање свих задатака је 90 минута. Уколико завршите раније, тихо и без ометања других такмичара можете изаћи из учионице.

**Желимо вам пуно успеха у раду!**

Задатке предложили:

Горица Станојевић, мастер  
Сузана Ловић, дипломирани географ  
мр Милован Миливојевић

Рецензент:

др Љиљана Живковић



1. У наредним реченицама тамним словима су написани појмови од којих је један тачан, а један нетачан. Подвуци тачне појмове.

- а) Географска карта размере 1 : 1 000 000 припада групи **ситноразмерних / крупноразмерних** карата.
- б) Часовне зоне су ограничене на **15° / 30°** географске дужине.
- в) Све тачке на Земљиној површини **имају / немају** исту брзину ротације.
- г) Датумска граница се највећим делом налази на **0° / 180°** географске дужине.
- д) Северни и јужни повратник и поларник су **меридијани / паралеле**.

(5 x 2 = 10)

2. На основу приложене слике одговори на питања заокруживањем, допуњавањем и подвлачењем тачних одговора.



Приказани облик рељефа на слици је настао дејством:

- а) ветра
- б) воде

Ерозија којом је настао приказани облик назива се \_\_\_\_\_.

Приказани рељеф се **може / не може** видети на простору Србије.

(3 x 2 = 6)

3. Заокружи слово испред тачног одговора.

Која од временских непогода за последицу има највеће људске жртве и материјалне штете?

- а) грмљавина
- б) град
- в) тајфуни

(2)

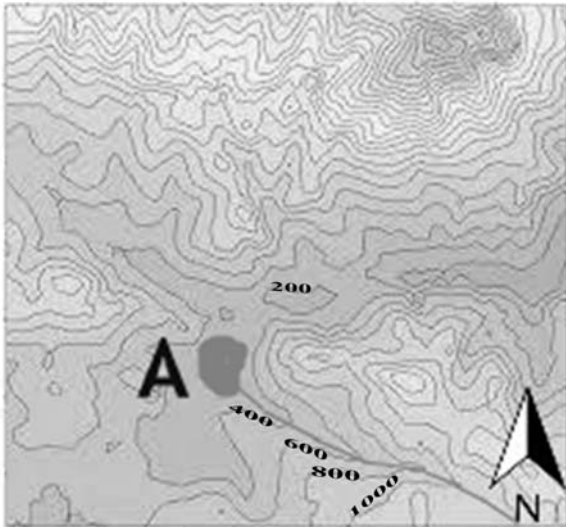


4. Зашто је снег уобичајена појава на високим планинама у тропима?

- а) хладније је на осојним странама планина
- б) са повећањем висине, опада температура ваздуха
- в) зимска сезона траје 6 месеци

(2)

5. На основу графичког прилога одговори на питања заокруживањем и дописивањем тачних одговора.



Којом методом је представљен рељеф на приложеном исечку карте?



- а) Изохипси
- б) Изонефа

Река се улива у језеро код тачке А или из њега извире?

\_\_\_\_\_

(2 + 2 = 4)

6. На основу приложених слика одговори на питање.



На сликама су приказана два типа речног ушћа. Слика означена бројем \_\_\_\_\_ представља делту, док је на слици означеној бројем \_\_\_\_\_ приказан естуар.

(2 x 2 = 4)



7. Заокружи слово испред тачног одговора.

Јачина земљотреса који је 2010. године погодио Краљево износила је 7,0 степени Меркалијеве скале. Измерена јачина је у:

- а) епицентру
- б) хипоцентру

(2)

8. Заокружи тачан појам у следећој реченици.

Грот, Велетин и Мркоњски вис су настали радом **ендогених** / **егзогених** сила.

(2)

9. Заокружи слова испред тачних одговора.

Које од наведених река теку у приближно упоредничком правцу?

- а) Пек
- б) Тимок
- в) Западна Морава
- г) Сава
- д) Тиса

(2 x 2 = 4)

10. Заокружи слово испред тачног одговора.

У близини ког града је протицај Западне Мораве већи?

- а) Трстеник
- б) Чачак

(2)

11. Заокружи слова испред тачних одговора.

Београд одликује:

- а) смањење пољопривредних површина
- б) раст и јачање инфраструктурних објеката
- в) пад броја запослених у терцијарном и кварталном сектору делатности
- г) изразито етнички хетерогена средина
- д) раст удела високообразованог становништва

(3 x 2 = 6)



12. На основу података из табеле, заокружи слова испред тачних одговора.

	Наталитет	Морталитет	Имиграција	Емиграција	Површина у км <sup>2</sup>
Лозница	778	1097	230	274	612
Крупњак	126	228	12	45	342
Коцељева	99	230	8	27	257

А) Позитиван миграциони салдо забележен је у:

- а) Лозници
- б) Коцељеви и Крупњу
- в) ни у једној од наведених општина

Б) У све три општине забележен је:

- а) пад броја становника
- б) пораст броја становника

(2 + 2 = 4)

13. Заокружи слово испред тачног одговора.

Приликом посете општини Ковин моћи ћеш да видиш:

- а) крашке облике рељефа
- б) ледничке облике рељефа
- в) еолске облике рељефа

(2)

14. Заокружи слово испред тачног одговора.

Која од наведених бања има најповољнији саобраћајно-географски положај у односу на коридор 10?

- а) Бања Врујци
- б) Прибојска бања
- в) Нишка бања

(2)

15. Заокружи слово испред тачног одговора.

Етничка група Власи насељава:

- а) Источну Србију
- б) Западну Србију

(2)



16. Заокружи слова испред тачних одговора.

А) Мото Европске уније гласи:

- а) уједињени у различитости
- б) сви за једног један за све
- в) што можеш данас не остављај за сутра

Б) Шта је регулисано споразумом из Шенгена?

- а) слобода кретања људи и робе на територији Европске уније
- б) химна Европске уније

(1 + 1 = 2)

17. Поред тачних тврдњи упиши слово Т, а поред нетачних слово Н.

- а) Хидроелектрана Газиводе се налази у сливу Западне Мораве. \_\_\_\_
- б) Рафинерије нафте се налазе у Београду и Нишу. \_\_\_\_
- в) Ново Брдо је рудник каменог уља. \_\_\_\_
- г) У Севојну се налази ваљаоница бакра и алуминијума. \_\_\_\_

(4 x 1 = 4)

Укупан број бодова: 60



### ПРАКТИЧНА ВЕЖБА

Одговарајућим картографским знацима и картографским методама, на некој карти уцртајте наведене географске објекте. Сваки појам има вредност од 2 бода. Бодује се правилно картографско представљање и локацијска тачност објекта.

1. Језеро Батлава
2. Темнић (област)
3. Црни Тимок
4. Височица
5. Јуничка планина
6. Соколска планина
7. Јаша Томић (насеље)
8. Прохор Пчињски (гранични прелаз)
9. Ушће (насеље)
10. Звоначка Бања
11. Сјеница
12. Кубршница (река)
13. Сува планина
14. Текија (насеље)
15. Прахово (насеље)
16. Вршачке планине
17. Зубин Поток
18. Манастир Манасија
19. Криваја (река)
20. Црноок (1871 м)

Укупан број бодова: 40

Такмичар је на тесту освојио \_\_\_\_\_ бодова

Чланови комисије:

- 1) \_\_\_\_\_
- 2) \_\_\_\_\_
- 3) \_\_\_\_\_